

نام و نام خانوادگی:

دبستان غیردولتی گل یاس

شهرستان گلوگاه

تاریخ ارزشیابی: ۱۴۰۱/۲/۲۴

ارزیابی ریاضی پایه پنجم

معلم مربوطه: خانم امیرخانلو

۱- نیم دایره ----- خط تقارن دارد.

الف (۱ ب) بی نهایت

ج (ندارد د) ۲

۲- ۰/۱۲ متر چند سانتی متر است؟

الف) ۱۲۰ ب) ۱۲ ج) ۱/۲ د) ۱/۱۲

۳- ۲۵ سی سی چند میلی لیتر است؟

الف) ۲۵ ب) ۲۵۰ ج) ۲/۵ د) ۲۵۰۰

۴- جاهای خالی را با کلمات متناسب پر کنید.

از نمودار خط شکسته در چه مواقعی استفاده می کنیم؟.....

واحد استاندارد اندازه گیری زاویه ----- است.

اگر در یک بازی شانسی، احتمال برنده شدن بازیکنان مساوی باشد، به آن بازی ----- می گویند.

۵- صحیح و غلط گزینه‌ها را مشخص کنید.

الف) ارزش مکانی رقم ۸ در عدد ۱۴/۸۲، صدم می باشد.

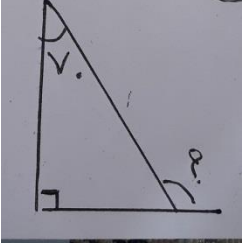
ب) ۲/۵ لیتر ۲۵۰۰ سانتی متر مکعب می باشد.

۶- عملیات زیر را انجام دهید.

$$= \frac{3}{0.1} - \frac{8}{12} \text{ (الف)}$$

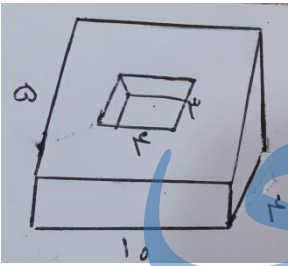
$$= \frac{0}{9} \times \frac{0}{0.1} \text{ (ب)}$$

۷- اندازه ی زاویه ی خواسته شده را بیابید.



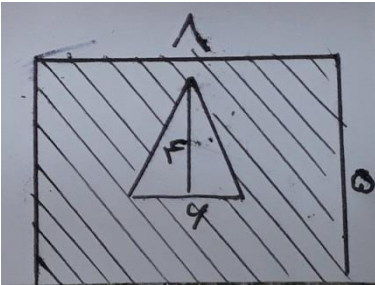
۸- استخری به شکل مکعب مستطیل به ابعاد $5/5$ ، 4 و 3 متر چند لیتر گنجایش دارد؟

۹- حجم شکل زیر را بدست آورید .

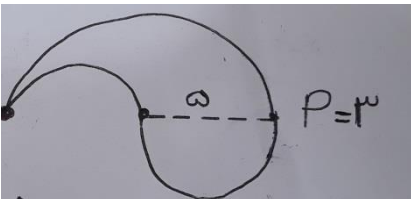


جزوه

۹- مساحت قسمت رنگی را بدست آورید.

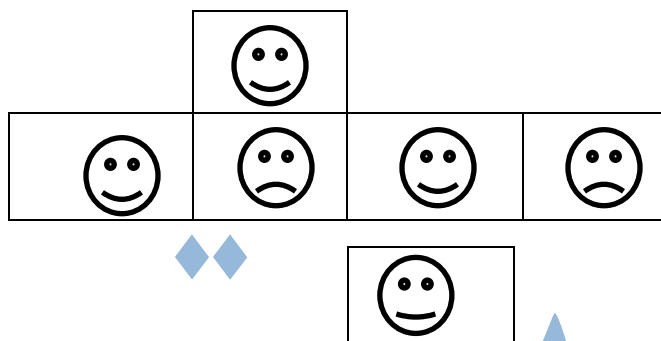


۱۰- محیط شکل زیر را بدست آورید.



۱۱- میانگین سه عدد ۱۵ است. اگر عدد اول ۱۲ و عدد دوم ۱۴/۵ باشد سومین عدد چند است؟

۱۲- با گسترده ی روبرو یک تاس میندازیم و آن را می اندازیم احتمال مشاهده هر شکل را به عبارت صحیح وصل کنید.



پنجاه، پنجاه



کم



غیرممکن

جزوه سیپی خیلی کم

۱۳- رسم نمودار ستونی

شهر	تبریز	ساری	شیراز	کرمان
میزان بارندگی	۱۰۰	۱۲۰	۶۰	۵۰

موفق و موید باشید